



ESTADO DO PIAUÍ

PREFEITURA MUNICIPAL DE BOQUEIRÃO DO PIAUÍ

CONCURSO PÚBLICO Nº. 01/2010

Concurso público para provimento de cargos de Motorista

DATA: 18/07/2010

HORÁRIO: 08h às 12h

DURAÇÃO: 4 horas

NÚMERO DE QUESTÕES: 40

Nº INSCRIÇÃO:

LEIA ATENTAMENTE AS INSTRUÇÕES ABAIXO.

- Para a realização desta prova, você está recebendo este **CADERNO DE QUESTÕES**. No momento adequado, lhe será entregue o seu **CARTÃO RESPOSTA PERSONALIZADO**.
- As questões estão assim distribuídas:

LÍNGUA PORTUGUESA	10
CONHECIMENTOS ESPECÍFICO	20
MATEMÁTICA	05
CONHECIMENTOS LOCAIS	05

- Caso o **CADERNO DE QUESTÕES** esteja incompleto, solicite outro ao fiscal, de imediato. Não serão aceitas reclamações posteriores.
- Nenhum candidato poderá sair da sala antes de decorridos 60 (sessenta) minutos do início da prova, ressalvados os casos de emergência médica.
- Só poderá ser utilizado como "borrão" o próprio **CADERNO DE QUESTÕES**.
- Não será permitida qualquer espécie de consulta, nem uso de aparelho(s) de cálculo.
- O porte de quaisquer aparelhos de comunicação e/ou de registro de dados, no recinto da prova, a qualquer momento, caracteriza **TENTATIVA DE FRAUDE**, procedendo-se à retirada imediata do candidato e a sua **ELIMINAÇÃO SUMÁRIA** do concurso.
- As respostas devem ser marcadas, obrigatoriamente, no **CARTÃO RESPOSTA**, pois a correção das provas será efetuada, considerando-se, exclusivamente, o conteúdo do cartão.
- Ao concluir a prova, o candidato terá que devolver o **CARTÃO RESPOSTA** devidamente **ASSINADO** e também o **CADERNO DE QUESTÕES**. A não devolução de qualquer um deles implicará na eliminação do candidato.

INSTRUÇÕES - PROVA OBJETIVA

- Verifique se os seus dados estão corretos no **CARTÃO DE RESPOSTA** óptico. Caso haja algum dado incorreto, escreva apenas no(s) campo(s) a ser(em) corrigido(s), conforme instruções no **CARTÃO DE RESPOSTAS**.
- Leia atentamente cada questão e assinale no **CARTÃO DE RESPOSTAS** óptico a alternativa que mais adequadamente a responder.
- A questão que tiver mais de uma resposta assinalada será considerada errada, mesmo que uma das assinalações esteja correta.
- O **CARTÃO DE RESPOSTA** óptico **NÃO** pode ser dobrado, amassado, rasurado, manchado ou conter qualquer registro fora dos locais destinados às respostas.
- A maneira correta de assinalar a alternativa no **CARTÃO DE RESPOSTAS** óptico é cobrindo, fortemente, com caneta esferográfica de tinta preta ou azul, fabricada em material transparente, o espaço a ela correspondente, conforme modelo a seguir:

Marque as respostas **assim**:

Texto para as questões 1 a 5:

O velho e a flor

Por céus e mares eu andei
Vi um poeta e vi um rei
Na esperança de saber o que é o amor
Ninguém sabia me dizer
E eu já queria até morrer
Quando um velhinho com uma flor assim falou:

O amor é o carinho
É o espinho que não se vê em cada flor
É a vida quando
Chega sangrando
Aberta em pétalas de amor.

(Vinícius de Moraes/ Toquinho)




01. Conforme a leitura do texto, o autor em suas andanças acabou vendo:
- Céus e mares
 - Um poeta e um rei
 - Um velhinho e uma flor
 - Esperança e amor
02. Dentre os vocábulos presentes no texto, apresenta-se no grau diminutivo:
- velhinho
 - carinho
 - espinho
 - sangrando
03. A assertiva que apresenta um vocábulo acentuado **INCORRETAMENTE** é:
- vê
 - céus
 - pétalas
 - sangrando
04. O sujeito que predomina nos versos que compõem a 1ª estrofe do poema é:
- um velhinho
 - um poeta e um rei
 - eu
 - céus e mares
05. A finalidade do sujeito ao andar por céus e mares é de:
- ver um poeta e um rei.
 - saber o que é o amor
 - ver um velhinho com a flor
 - conhecer céus e mares
06. Nas frases: “Ele tudo fala” e “ Não entendia a fala do adversário.”

Os vocábulos em destaque são exemplos de palavras:

- homônimas
 - sinônimas
 - parônimas
 - antônimas
07. A flexão de plural segue a mesma regra das palavras “têxteis” e “anis” em:
- cantil – canil
 - nível – adorável
 - inútil – sutil
 - fóssil – fácil
08. A alternativa em que o acento indicativo de crase foi empregado corretamente é:
- Estávamos prestes à sair de casa.
 - O guarda não se referia à ti.
 - Gostávamos de andar à pé.
 - Pede à banda para tocar uma bela música.
09. A divisão silábica está correta na alternativa:
- mal-tra-te-i / mis-té-rio
 - a-bal-ro-ar / op-tar
 - gran-dio-sa / sen-sí-vel
 - a-ssom-bra-do / es-ta-çõ-es
10. A assertiva que apresenta todos os vocábulos grafados corretamente é:
- floesser – parazita – enfatizar
 - florescer – parazita – enfatisar
 - florescer – parasita – enfatizar
 - flourescer – parasita –enfatizar

CONHECIMENTO ESPECÍFICO

11. Assinale a alternativa que melhor representa o modelo de placa a seguir. Placas em sua maioria circulares, vermelhas, com fundo branco e detalhes em preto.
- Comparação
 - Advertência
 - Regulamentação
 - Informações turísticas
12. Dirigir sob a influência de álcool ou de qualquer outra substância psicoativa que determine dependência constitui:
- Infração leve.
 - Infração grave, punida com multa.
 - Infração gravíssima
 - Infração grave e detenção do condutor.
13. Assinale a alternativa que apresenta tipos de placas de sinalização vertical:
- Advertência, Indicação e Obras.
 - Regulamentação, Advertência e Indicação.
 - Regulamentação, Visualização e Advertência.
 - Advertência, Comparação e Obras.

14. O Art. 256 do CTB (Código de Trânsito Brasileiro) descreve as várias penalidades de trânsito. Assinale a alternativa que contém uma penalidade de trânsito que pode ser imposta a um condutor quando este estiver com o direito de dirigir suspenso e mesmo assim for encontrado conduzindo qualquer veículo:
- Retenção do veículo.
 - Recolhimento do documento de habilitação.
 - Suspensão do direito de recursos.
 - Multa.
15. Trata-se de requisito para que ao final de 1 ano de posse da Permissão para Dirigir, o condutor obtenha sua CNH categoria B definitiva:
- não ter cometido infração gravíssima.
 - não ter cometido nenhuma infração leve.
 - não ser reincidente em infrações leves.
 - não ter sido advertido verbalmente.
16. A legislação de trânsito determina que o exame de aptidão física e mental para os maiores de 65 anos será preliminar e renovável a cada:
- 02 anos.
 - 03 anos.
 - 04 anos.
 - 05 anos.
17. Assinale a alternativa abaixo que contém o sinal sonoro emitido pelo agente de trânsito que corresponde ao comando **“diminua a marcha”**:
- três silvos breves
 - um silvo longo
 - dois silvos longos
 - um silvo breve
18. Assinale a alternativa em relação às diversas categorias de CNH:
- A categoria “A” permite ao condutor transportar veículos de 02 ou 03 rodas assim como também veículos de 04 rodas com peso bruto total de até 800 kg.
 - Nas categorias “B” e “D”, o condutor pode dirigir veículos de transporte de passageiros com no máximo 12 lugares incluindo o motorista.
 - Os condutores de tratores de roda, esteira, misto ou destinado à execução de trabalhos agrícolas podem conduzi-los desde que sejam habilitados na categoria “B”, quando estiverem em via pública.
 - Para conduzir veículos de transporte de passageiros, de escolares, de emergência ou de produtos perigosos, o condutor deverá ser habilitado no mínimo na categoria “D”.
19. A placa sinalizadora  apresenta a seguinte informação:
- curva adiante à direita.
 - curvas sucessivas, sendo a primeira à direita.
 - local para retorno à direita.
 - curva acentuada à direita.
20. A alternativa que melhor representa a seqüência correta das placas é:
- 
- depressão, pista irregular.
 - pista irregular, depressão.
 - depressão, semi-lombada.
 - semi-lombada, depressão.
21. O CTB (Código de Trânsito Brasileiro) determina que, deixar o condutor de prestar socorro à vítima de acidente de trânsito quando solicitado pela autoridade e seus agentes, é uma infração:
- Leve
 - Média
 - Grave
 - Gravíssima
22. Quando um condutor dirigir veículo com a validade da sua Carteira Nacional de Habilitação vencida há mais de trinta dias, neste caso, ele comete infração:
- Leve
 - Média
 - Grave
 - Gravíssima
23. A **“suspensão do direito de dirigir”**, de acordo com o Código de Trânsito Brasileiro, é um tipo de:
- medida administrativa
 - penalidade
 - crime de trânsito
 - multa
24. Joaquim, ao conduzir seu veículo sem portar sua CNH está cometendo uma infração:
- leve
 - média
 - grave
 - gravíssima
25. A Placa sinalizadora  indica a presença de:
- pista irregular
 - declive acentuado
 - depressão
 - aclive acentuado
26. O Art. 309 do CTB (Código de Trânsito Brasileiro) determina que, dirigir veículo automotor, em via pública, sem a devida Permissão para Dirigir ou Habilitação ou, ainda, se cassado o direito de dirigir, gerando perigo de dano, poderá o condutor nestas condições ser penalizado com:

- a) detenção, de seis meses a um ano, ou multa.
 b) detenção, de seis meses a dois anos, ou multa.
 c) detenção, de seis meses a três anos, ou multa.
 d) detenção, de seis meses a quatro anos, ou multa.
27. Complete a lacuna corretamente. O Art. 281 do CTB (Código de Trânsito Brasileiro) diz que, a autoridade de trânsito na esfera da competência estabelecida neste Código e dentro de sua circunscrição julgará a consistência do auto de infração e aplicará a penalidade cabível.
Parágrafo único. O auto de infração será arquivado e seu registro julgado insubsistente:
 I. se considerado inconsistente ou irregular;
 II. se, no prazo máximo de _____ dias, não for expedida a notificação da autuação.
 a) cinco
 b) quinze
 c) trinta
 d) sessenta
28. De acordo com o Código de Trânsito Brasileiro no seu art. 270, o veículo poderá ser retido nos casos expressos nesta legislação. O § 1º do referido artigo diz que, quando a irregularidade puder ser sanada no local da infração, o veículo será liberado tão logo seja regularizada a situação.
 Já o § 2º do mesmo Artigo diz que, não sendo possível sanar a falha no local da infração, o veículo poderá ser retirado por condutor regularmente habilitado, mediante recolhimento do _____, contra recibo, assinalando-se ao condutor prazo para sua regularização, para o que se considerará, desde logo, notificado.
 Assinale a alternativa que melhor completa a lacuna da questão.
 a) Certificado de Registro da Habilitação
 b) Certificado de Licenciamento Anual
 c) Carteira Nacional de Habilitação apenas se for CNHA
 d) Certificado de Registro veicular
29. Em casos de cassação de CNH, o § 2º do art. 263 do Código de Trânsito Brasileiro diz que, decorridos _____ anos da cassação da Carteira Nacional de Habilitação, o infrator poderá requerer sua reabilitação, submetendo-se a todos os exames necessários à habilitação, na forma estabelecida pelo CONTRAN. Assinale a alternativa que completa corretamente a lacuna:
 a) cinco
 b) quatro
 c) três
 d) dois
30. O CTB (Código de Trânsito Brasileiro) no seu art. 260 § 4º diz que, quando a infração for cometida com veículo licenciado no exterior, em trânsito no território nacional, a multa respectiva deverá ser paga _____, respeitado o Princípio de Reciprocidade.
 a) antes de sua saída do país.
 b) somente após sua saída do país devido aos tratados internacionais.
 c) somente após sua saída do País devido tratados de direitos humanos internacionais
 d) metade antes de sua saída do país e metade após sua saída, como garantia de não haver prisão do veículo.

MATEMÁTICA

31. O ônibus que leva Pedro todos os dias para ir trabalhar tem um banco de sete lugares e vinte seis bancos de dois lugares. Na maioria das vezes ele viaja sentado. Mas hoje, infelizmente, não encontrou lugar para sentar e quando entrou, o ônibus ficou com 84 passageiros. O número de passageiros que estavam em pé nesse ônibus corresponde a:
 a) 24
 b) 22
 c) 25
 d) 29
32. Numa conversa informal, Wagner indagou a seu primo Malta sobre a idade dele. Malta respondeu que sua idade é representada pelo número natural que é indicado no resultado da expressão:

$$(84 - 5 \cdot 6) : (7 + 40 : 2) \cdot (40 - 8 \cdot 4)$$

 Determinando o dobro da idade de Malta, obtêm-se:
 a) 28
 b) 36
 c) 26
 d) 32
33. No shopping de uma determinada cidade, existe um salão de beleza, em que uma cabeleireira cortou o cabelo de 15 clientes e fez 6 escovas num dia. Cada corte de cabelo custa R\$ 20,00 e ela recebeu de gorjetas, nesse dia, R\$ 30,00. O valor que ela cobra para fazer uma escova, sabendo-se que no final desse dia havia recebido um total de R\$ 516,00 é de:
 a) R\$ 28,00
 b) R\$ 31,00
 c) R\$ 32,00
 d) R\$ 29,00

34. Considerando o sistema de numeração dos romanos, sabe-se que o sinal **X** de multiplicação apareceu, pela primeira vez, numa obra publicada em 1631. O século em que esse fato ocorreu é indicado por:
- XV
 - XVII
 - XVIII
 - XVI
35. Para um concurso público inscreveram-se 13.200 candidatos. Sabe-se que $\frac{3}{20}$ desses candidatos concorreram para o cargo de professor; $\frac{3}{8}$ para serviços gerais e $\frac{1}{8}$ concorreu para vigilância. O número de candidatos que não concorreram a nenhum desses cargos listados corresponde a:
- 4860
 - 8580
 - 4620
 - 8650

CONHECIMENTOS LOCAL

36. O topônimo, área territorial e limites do município de Boqueirão do Piauí foram estabelecidos pela lei estadual nº 4680, de 26-01-1994. O município de cujo território ocorreu seu desmembramento foi:
- Piracuruca
 - Piripiri
 - Campo Maior
 - Nossa Senhora de Nazaré
37. O primeiro prefeito de Boqueirão do Piauí, o qual administrou o município entre 1997 e 2004, foi:
- Raimundo Soares
 - Gervásio Barbosa
 - Francisco Vicente da Silva
 - Raimundo Pinto
38. Observe o mapa abaixo onde está representada – pela área escura – a localização do município de Boqueirão do Piauí no território piauiense:



MAPA Nº 01
FONTE:CEPRO 2009

A partir do mapa é **CORRETO** afirmar que o município de Boqueirão do Piauí localiza-se:

- Na região Centro-Sul do Piauí
 - Na região Norte do Piauí
 - Na região Centro-Norte do Piauí
 - Na região Sudoeste do Piauí
39. O município de Boqueirão do Piauí está situado na microrregião:
- Semi-Árido
 - Tabuleiros Litorâneos
 - Meio-Norte
 - Vale do Gurguéia
40. Com relação a população de Boqueirão do Piauí é correto afirmar:
- Está concentrada na zona urbana;
 - Em termos percentuais o número de mulheres é superior ao número de homens;
 - Apresenta uma população idosa, com mais de 50% acima dos 60 anos de idade;
 - Apresenta o predomínio de uma população jovem, com idade entre 10 e 19 anos.

