



ESTADO DO PIAUÍ

PREFEITURA MUNICIPAL DE BOQUEIRÃO DO PIAUÍ

CONCURSO PÚBLICO Nº. 01/2010

Concurso público para provimento de cargos de Professor de Geografia

DATA: 18/07/2010

HORÁRIO: 08h às 12h

DURAÇÃO: 4 horas

NÚMERO DE QUESTÕES: 40

Nº INSCRIÇÃO:

LEIA ATENTAMENTE AS INSTRUÇÕES ABAIXO.

- Para a realização desta prova, você está recebendo este **CADERNO DE QUESTÕES**. No momento adequado, lhe será entregue o seu **CARTÃO RESPOSTA PERSONALIZADO**.
- As questões estão assim distribuídas:

LÍNGUA PORTUGUESA	10
CONHECIMENTOS ESPECÍFICO	20
CONHECIMENTOS GERAIS/ATUALIDADES	05
CONHECIMENTOS LOCAIS	05

- Caso o **CADERNO DE QUESTÕES** esteja incompleto, solicite outro ao fiscal, de imediato. Não serão aceitas reclamações posteriores.
- Nenhum candidato poderá sair da sala antes de decorridos 60 (sessenta) minutos do início da prova, ressalvados os casos de emergência médica.
- Só poderá ser utilizado como "borrão" o próprio **CADERNO DE QUESTÕES**.
- Não será permitida qualquer espécie de consulta, nem uso de aparelho(s) de cálculo.
- O porte de quaisquer aparelhos de comunicação e/ou de registro de dados, no recinto da prova, a qualquer momento, caracteriza **TENTATIVA DE FRAUDE**, procedendo-se à retirada imediata do candidato e a sua **ELIMINAÇÃO SUMÁRIA** do concurso.
- As respostas devem ser marcadas, obrigatoriamente, no **CARTÃO RESPOSTA**, pois a correção das provas será efetuada, considerando-se, exclusivamente, o conteúdo do cartão.
- Ao concluir a prova, o candidato terá que devolver o **CARTÃO RESPOSTA** devidamente **ASSINADO** e também o **CADERNO DE QUESTÕES**. A não devolução de qualquer um deles implicará na eliminação do candidato.

INSTRUÇÕES - PROVA OBJETIVA

- Verifique se os seus dados estão corretos no **CARTÃO DE RESPOSTA** óptico. Caso haja algum dado incorreto, escreva apenas no(s) campo(s) a ser(em) corrigido(s), conforme instruções no **CARTÃO DE RESPOSTAS**.
- Leia atentamente cada questão e assinale no **CARTÃO DE RESPOSTAS** óptico a alternativa que mais adequadamente a responder.
- A questão que tiver mais de uma resposta assinalada será considerada errada, mesmo que uma das assinalações esteja correta.
- O **CARTÃO DE RESPOSTA** óptico **NÃO** pode ser dobrado, amassado, rasurado, manchado ou conter qualquer registro fora dos locais destinados às respostas.
- A maneira correta de assinalar a alternativa no **CARTÃO DE RESPOSTAS** óptico é cobrindo, fortemente, com caneta esferográfica de tinta preta ou azul, fabricada em material transparente, o espaço a ela correspondente, conforme modelo a seguir:

Marque as respostas **assim**:

Texto para as questões 1 a 3:

DOS USOS DO MORALISMO

Espera-se honestidade e ética de qualquer governante ou pessoa pública – ou motorista, médico ou manicure. Um comportamento moral generalizado é um requisito mínimo para a convivência, com ligeiros ajustes para a hipocrisia e a mentira social. Mas, como tudo na vida, o conceito de moral é relativo. Uma questão de perspectiva. Você pode viver no país mais imoral do mundo, nascer e viver em meio à injustiça mais obscena e à miséria mais pornográfica, sem se dar conta disso – e se escandalizar com cenas de sexo na TV. A imoralidade endêmica brasileira nem exige que a gente viva em permanente estado de indignação, o que até impossibilitaria a vida, nem absolve imoralidades menores a ponto de nada nos indignar. Mas é um pano de fundo contra o qual se estudam os usos e desusos, entre nós, do moralismo, essa outra coisa relativa que depende da perspectiva.

O objetivo do moralismo não é, necessariamente, a moralidade. Como o colesterol, existe moralismo ruim e moralismo bom, com efeitos diferentes no organismo nacional, com perdão da metáfora médica prolongada. O moralismo pode ser um mau conselheiro político. Já foi em muitos momentos da nossa história. Ajudou a eleger o Jânio Quadros, que iria varrer toda a sujeira deixada pelo governo do Juscelino, e cuja renúncia inaugurou um dos piores períodos da nossa vida institucional, culminando com o golpe militar de 64, que também nasceu do moralismo, ou da cooptação de valores cristãos ameaçados pelo demônio vermelho. Foi o moralismo que elegeram o Collor, para acabar com a pouca vergonha dos marajás do serviço público. O moralismo mal usado tem um prontuário quase maior do que o da corrupção na História destes últimos 60 anos.

O bom moralismo é um traço recorrente e surpreendente no eleitorado de um país que gosta de se auto caracterizar como a terra do jeitinho e da malandragem. O pior moralismo é o oportunista, para uso de acordo com a conveniência política. O fato de as denúncias de corrupção do governo Lula não estarem, aparentemente, afetando o julgamento da maioria dos eleitores, sugere uma de duas coisas, dois pontos. Ou o moralismo já não tem o poder político que tinha nas nossas eleições (suspiros de alívio ou de decepção à vontade), ou os eleitores declarados do Lula estão sabendo distinguir o moralismo de ocasião, cujo objetivo é tudo menos a moralidade, do moralismo legítimo. Ou, claro, estão votando contra a imoralidade maior.

(Luís Antonio Veríssimo)

01. Analise as afirmações a seguir:

1. O conceito de moral é unânime e deve ser entendido como requisito mínimo para a convivência.
2. A “moral” e o “moralismo” são elementos conceitualmente diferentes, porém igualmente relativos.
3. A finalidade do moralismo não atende essencialmente ao critério da moralidade.
4. A “moralidade” pode ser vista como um mau conselheiro político, uma vez que esteve presente em muitos momentos da história política, especialmente na era Jânio Quadros e Collor.

Estão corretas:

- a) 1, 2 e 3
- b) 2 e 3
- c) 1, 2 e 4
- d) 3 e 4

02. Levando em consideração o parágrafo final do texto, identifique o que for **INCORRETO**:

- a) O moralismo ruim se define como aquele usado de acordo com o interesse político.
- b) Os eleitores partidários de Lula, ao elegerem o governante, estão votando a favor da “imoralidade maior”.
- c) As denúncias de corrupção do governo Lula aparentemente não afetaram a maioria dos eleitores.
- d) Um dos pontos discutidos é a distinção feita entre o moralismo de ocasião e o moralismo legítimo.

03. A oração que encerra o texto acima se classifica sintaticamente como:

- a) Oração Coordenada Sindética Aditiva
- b) Oração Subordinada Substantiva Objetiva Direta
- c) Oração Coordenada Sindética Alternativa
- d) Oração Subordinada Sindética Conclusiva

04. Em qual dos trechos abaixo, há uma relação que exprime consequência:

- a) Alguns estudiosos afirmam convictamente que a mercadoria mais importante do mundo moderno é a informação.
- b) O gigantismo da internet nos remete a uma oposição. Se ganha no alcance, perde no poder de concentração e análise.
- c) Qualquer pessoa, medianamente informada ou sem informação alguma, pode manter uma fonte de notícias ou comentários mesmo que seja sem responsabilidade.
- d) O mercado da informação, em breve, estará tão poluído que dificilmente saberemos identificar o que nos serve.

05. Assinale a assertiva na qual a regência nominal segue as regras da Norma Padrão:
- Aquele pensamento é incompatível ao pensamento do autor.
 - Algumas informações que são postas na mídia à disposição aos usuários nem sempre são confiáveis.
 - Pesquisas indicam que é preferível a mídia impressa do que a internet.
 - Existem sites não confiáveis e que são propensos a repassarem informações inverídicas.
06. Veja os exemplos 1 e 2:
- “Vontade de beijar os olhos de minha pátria / De niná-la, de passar-lhe a mão pelos cabelos”.
 - “Sinto o canto da noite na boca do vento”.
- A partir dos exemplos 1 e 2, indique as respectivas figuras de linguagem presentes:
- prosopopéia – prosopopéia
 - metáfora – gradação
 - hipérbole – antítese
 - aliteração – personificação
07. A frase em que todos os verbos estão corretamente flexionados é:
- Os agricultores que se proporam ao plantio naquela região se beneficiaram com a grande safra.
 - Para que se mantessem os preços favoráveis na comercialização de milho, os agricultores acabaram por reduzir a área destinada ao cultivo.
 - Os agricultores em algumas regiões do Nordeste sofreram graves prejuízos por conta da forte chuva que se abateu sobre grande área.
 - Os problemas que sobreviram em decorrência das fortes chuvas não foram solucionados.
08. Observe o fragmento e responda ao que for proposto: “**Jânio**, você precisa ver com bons olhos o valor destes projetos”. A expressão grifada possui, respectivamente, a seguinte classificação morfosintática:
- substantivo – sujeito
 - substantivo – aposto
 - substantivo – vocativo
 - vocativo – objeto direto
09. Identifique a alternativa em que as palavras estão acentuadas, respectivamente, pelo mesmo motivo que em **caótico – chimpanzé – três**.
- saudável – pálido – até
 - gástrico – úlcera – pé
 - úlcera – sapé – fé
 - consultório – só – há
10. No período: “Queremos liberdade, **ainda que venha tarde**”, a oração grifada exprime uma idéia de:
- causa
 - concessão
 - conclusão
 - conseqüência

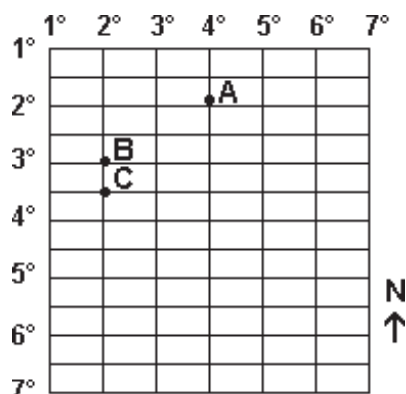
11. “À medida em que se apropria da natureza e a transforma, a sociedade cria ou produz o espaço geográfico, e o faz por meio do trabalho. Utiliza, para tanto, as técnicas de que dispõe segundo o momento histórico e segundo suas representações, ou seja, crenças, valores, normas e interesses econômicos, fatores que orientam suas intervenções e relações com os elementos naturais ou físicos do espaço”

(ADAS, Melhem. Panorama geográfico do Brasil.

Moderna, São Paulo, 2004)

A partir do fragmento de texto acima, podemos afirmar corretamente que:

- Os elementos da natureza são essenciais e determinantes para a produção do espaço geográfico.
 - O espaço geográfico pode ser considerado como produto do meio natural
 - A produção do espaço geográfico independe da natureza
 - O espaço geográfico é a expressão visível de como a sociedade está organizada
12. Os mapas são uma versão parcial da realidade. A representação cartográfica nunca é exata ou idêntica àquilo que se pretende representar, já que envolve sempre uma redução de tamanho, conforme escala, destacando algumas informações e descartando outras ao priorizar certos elementos. Nesse sentido, para representar a zona urbana do município de São João do Piauí, de tal maneira que o leitor possa identificar logradouros públicos como praças e ruas, o cartógrafo deve utilizar:
- Uma escala grande, na ordem de até 1:20.000
 - Uma escala pequena, na ordem de até 1:20.000
 - Uma escala pequena, na ordem de 1:10.000
 - Uma escala grande, na ordem de 1:100.000
13. O sistema de mapeamento da Terra através de coordenadas geográficas expressa qualquer posição horizontal no planeta através dos valores de latitude e de longitude. Assim sendo, considerando a figura abaixo, assinale a única alternativa correta.

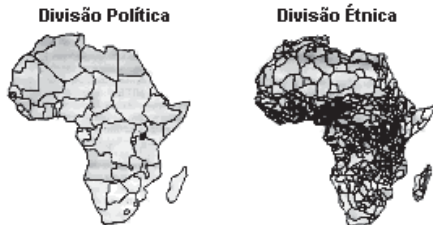


- a) O ponto "A" está localizado a noroeste do ponto "B"
- b) Todos os pontos estão localizados ao sul da linha do Equador e ao leste do Meridiano de Greenwich.
- c) O ponto "C" possui menor latitude do que o ponto "B" e maior longitude do que o ponto "A".
- d) Todos os pontos estão localizados ao norte da linha do Equador e a oeste do Meridiano de Greenwich.
14. "Apenas quando você tiver cortado a última árvore, pescado o último peixe e poluído o último rio, vai descobrir que não pode comer dinheiro." (Fala de um ancião americano citada em Vandana Shiva, "Ecodesenvolvimento", 1989.)
O fragmento de texto acima denuncia uma apropriação predatória dos recursos naturais pela sociedade contemporânea, o que contraria a concepção de desenvolvimento sustentável, termo bastante utilizado no nosso cotidiano e que significa:
- a) A capacidade da sociedade de promover o desenvolvimento econômico quantitativo, baseado na intensa exploração dos recursos naturais, aumentando o Produto Interno Bruto (PIB).
- b) O congelamento do desenvolvimento econômico para preservar os recursos naturais
- c) O modelo de desenvolvimento capaz de atender às necessidades do presente sem comprometer a possibilidade de as gerações futuras atenderem as suas próprias necessidades.
- d) A exploração racional dos recursos naturais pelos países subdesenvolvidos, a exemplo do que já ocorre nas economias mais industrializadas.
15. As inovações tecnológicas permeiam a evolução da sociedade humana e, conseqüentemente, do espaço geográfico. Nesse sentido, considerando a organização do espaço à luz do contexto da Terceira Revolução Industrial, assinale a única alternativa correta:
- a) As indústrias mais importantes são as têxteis e as siderúrgicas, sendo a localização industrial condicionada pela proximidade das fontes de matérias primas e do abastecimento energético;
- b) A mão-de-obra barata e abundante dos países subdesenvolvidos têm atraído indústrias de alta tecnologia como a robótica e a microeletrônica para esses países.
- c) Os grandes avanços tecnológicos em todos os setores de atividades econômicas permitiram uma maior absorção de trabalhadores no mercado de trabalho, principalmente nos países subdesenvolvidos.
- d) As indústrias avançadas ou de ponta, a exemplo da biotecnologia e da química fina, preferencialmente vêm sendo implantadas nos países desenvolvidos, já que estes possuem maior oferta de mão-de-obra altamente qualificada.
16. O sistema capitalista internacional, ao longo de sua história, tem sido marcado por um grande dinamismo, sendo capaz de superar crises e adaptando-se às novas conjunturas internacionais. Nesse sentido, nas últimas décadas do século XX, ganhou força um conjunto de políticas macroeconômicas conhecidas como neoliberalismo. Tal doutrina se caracteriza:
- a) Pela maior intervenção do estado na economia e pelo fortalecimento do estado de bem-estar social.
- b) Pelos monopólios comerciais e pelas anexações territoriais.
- c) Pelas privatizações de empresas estatais e pela redução do papel do estado na economia.
- d) Pela livre concorrência entre pequenas empresas e pelo fortalecimento do estado de bem-estar social.
17. Um dos acontecimentos mais significativos do século XX foi a Revolução Socialista na Rússia, em 1917, por colocar em xeque a ordem socioeconômica capitalista. Dentre as principais características da economia Russa após a Revolução de 1917, podemos destacar:
- a) Estatização dos meios de produção e planejamento centralizado da economia.
- b) Privatização de empresas estatais e planejamento centralizado da economia.
- c) Formação de oligopólios industriais e reforma agrária com confisco de terras.
- d) Estatização dos meios de produção e o estabelecimento da livre concorrência entre empresas.
18. A globalização não apaga nem as desigualdades nem as contradições que constituem uma parte importante do tecido da vida social nacional e mundial. Ao contrário, desenvolve umas e outras, recriando-se em outros níveis, com novos ingredientes. As mesmas condições que alimentam a interdependência e a integração alimentam as desigualdades e contradições, em âmbito tribal, regional, nacional, continental e global.
- (IANNI, O. "A sociedade global". Rio de Janeiro: Civilização Brasileira, 2003. p. 127.)
- Com base no texto acima, sobre a temática globalização, assinale a alternativa correta:
- a) A globalização não elimina, mas reduz as desigualdades internacionais, tendo em vista uma maior circulação de capitais e mercadorias.
- b) A globalização pode ser considerada como um fenômeno de abertura das economias rumo a uma integração mundial, entretanto, é seletiva, pois não envolve todas as regiões, atividades e segmentos sociais na mesma condição.

- c) A globalização possibilita uma completa homogeneização de hábitos e padrões de consumo no planeta.
- d) Graças à globalização da economia, que possibilitou a integração dos mercados regionais e a ampliação dos fluxos de capital, os países subdesenvolvidos estão superando a condição de pobreza e exclusão social.
19. A partir dos anos de 1930, o Brasil intensificou seu processo de industrialização e, assim, a indústria superou a agropecuária em termos de participação no PIB. Durante todo esse período, podemos afirmar que a industrialização no Brasil passou por diversas fases. Nesse sentido, no período compreendido entre 1930 e a primeira metade da década de 1950, a atividade industrial brasileira caracterizou-se, dentre outros aspectos:
- Pela abertura ao capital estrangeiro, com a implantação da indústria automobilística na região Nordeste.
 - Pela privatização de setores estratégicos como o siderúrgico e o petroquímico.
 - Pela forte participação do estado na implantação da indústria de base.
 - Pela política estatal dirigida à descentralização industrial, com incentivos dirigidos às multinacionais para implantarem unidades de produção na região Nordeste.
20. O uso da expressão subdesenvolvimento surgiu no contexto do pós-Segunda Guerra Mundial a partir da avaliação de dados estatísticos obtidos por organismos internacionais como a Organização das Nações Unidas para designar os países que apresentavam baixos indicadores econômicos e sociais. Sobre a temática em questão, assinale a alternativa correta:
- O subdesenvolvimento pode ser considerado apenas como uma fase rumo ao desenvolvimento econômico, tendo em vista que as nações hoje desenvolvidas também já foram subdesenvolvidas no passado.
 - Países como o Brasil, o Chile e o México já superaram a condição de subdesenvolvimento, exibindo atualmente indicadores econômico-sociais semelhantes aos dos países desenvolvidos.
 - O subdesenvolvimento é determinado pelas condições naturais, tendo em vista que a maioria dos países subdesenvolvidos encontram-se na zona intertropical.
 - O subdesenvolvimento é resultado da lógica de reprodução do sistema capitalista, sendo consequência da mundialização desse sistema, principalmente a partir do século XVI.
21. Em 1991, com a assinatura do Tratado de Assunção, foi criado o Mercosul, sendo formado por Brasil, Argentina, Paraguai e Uruguai. Posteriormente, Chile e Bolívia passaram a participar do bloco sul-americano como membros associados. Em 2006, a Venezuela assinou o termo de adesão ao bloco. Sobre o processo de integração econômica no cone sul, assinale a única alternativa correta:
- O Mercosul já pode ser considerado como um verdadeiro Mercado Comum, tendo em vista que desde 2001 já ocorre a livre circulação de pessoas no bloco.
 - A criação do Mercosul possibilitou uma ampliação das trocas comerciais entre os países-membros, principalmente entre Brasil e Argentina, que são dois dos países de economias mais diversificadas.
 - O Mercosul é o maior bloco econômico mundial, considerando-se a soma dos Produtos Internos Brutos de seus países integrantes.
 - As discussões em torno da criação da Área de Livre Comércio das Américas – ALCA, levaram à extinção formal do Mercosul em 2005.
22. O Japão conquistou posição de destaque na economia mundial no período que se segue à Segunda Guerra Mundial. Atualmente, a presença japonesa na economia globalizada se traduz, mais explicitamente, pela crescente conquista de fatias do mercado internacional. São fatores que contribuíram para o grande desenvolvimento econômico japonês após a Segunda Guerra Mundial, exceto:
- A grande abundância de recursos minerais e energéticos.
 - A farta mão-de-obra, com grande capacidade técnica e bastante disciplinada.
 - Um amplo mercado interno e uma forte política de exportações.
 - A forte participação do Estado, aliado aos grandes conglomerados empresariais na conquista de mercados externos.
23. A União Européia pode ser considerada como o melhor exemplo em termos de integração econômica, contando atualmente com 27 países integrantes. Sobre o processo de integração econômica do referido bloco, assinale a única alternativa verdadeira.
- Seu atual estágio de integração corresponde a uma União Econômica e Monetária.
 - A Turquia é o país mais pobre entre todos os seus integrantes.
 - A Suíça é o estado-membro que possui os melhores indicadores sociais.
 - Todos os países-membros adotam o Euro como moeda oficial.

24. Na África, a dominação das metrópoles europeias deixou, como legado, um mapa sem a preocupação de definir fronteiras que ao menos colocassem as múltiplas identidades nativas nos seus devidos habitats geográficos, conforme pode-se observar no mapa a seguir:

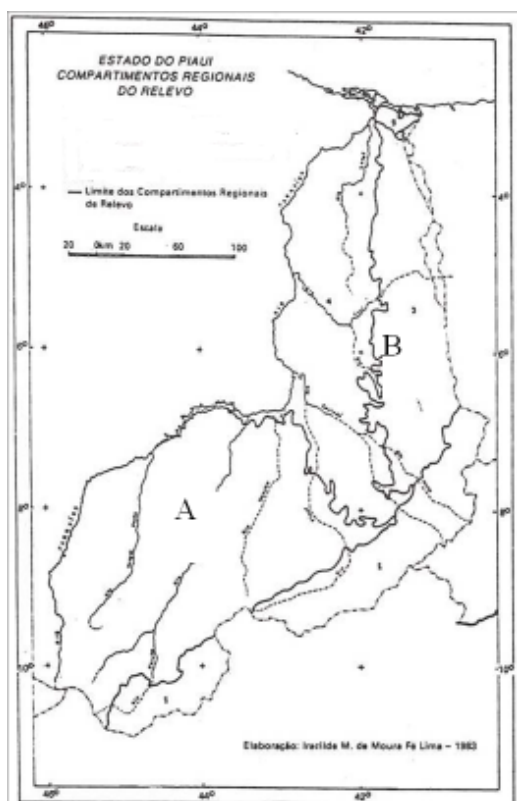
Mapas das Fronteiras Políticas e Étnicas da África



Fonte: Adaptado de GLASSNER, Martin Ira - "Political Geography". London, 2004.

A principal consequência da divisão política estabelecida pelos europeus para o continente africano foi:

- A homogeneização cultural.
 - A eclosão de conflitos étnico-tribais.
 - A redução dos conflitos étnicos
 - A dependência econômica.
25. Sobre o quadro natural do Piauí, as áreas identificadas pelas letras "A" e "B" do mapa a seguir caracterizam-se, respectivamente, por apresentar:



- Clima semiárido e clima tropical úmido.
- Vegetação de cerrados e mata dos cocais.
- Relevo de chapadões e reverso da cuesta da Ibiapaba.
- Rios intermitentes e drenagem criptorréica

26. De acordo com a Constituição Federal, o dever do Estado com a educação será efetivado mediante a garantia de:

- progressiva universalização do ensino infantil gratuito;
 - atendimento educacional especializado aos portadores de deficiência, preferencialmente na rede regular de ensino;
 - acesso aos níveis mais elevados do ensino, da pesquisa e da criação artística, segundo a necessidade de cada um;
 - oferta de ensino fundamental regular, adequado às condições do educando;
- 27 – A autonomia é o fundamento da concepção democrático-participativa de gestão escolar, razão de ser do projeto pedagógico. LIBANEO, José Carlos. ORGANIZACAO E GESTAO DA ESCOLA. Teoria e Prática. Goiânia: editora alternativa, 2001.

27. A autonomia de uma instituição escolar significa:

- Ter poder de decisão sobre seus objetivos e suas formas de organização, manter-se relativamente independente do poder central e administrar livremente recursos financeiros;
- Ter poder de decisão sobre seu próprio caminho, manter-se absolutamente independente do poder central e administrar livremente seus recursos financeiros;
- Ter participação dos órgãos deliberativos da escola, os pais, os professores, os estudantes que vão aprendendo a sentir-se responsáveis pelas inovações da escola;
- A resolução de fazer algo, dirigir o comportamento para algo que tem significado para a comunidade interna da escola.

28. Trata-se de um processo contínuo e dinâmico, de reflexão, tomada de decisão, colocação em prática e acompanhamento. Este é o conceito de:

- Plano;
- Regimento;
- Planejamento;
- Diagnóstico.

29. Ao selecionar conteúdos, o professor deve observar os seguintes critérios:

- I. Significação – Atender às necessidades, as aspirações e aos verdadeiros objetivos dos alunos;
- II. Adequação às necessidades sociais e culturais - deve refletir sobre os amplos aspectos da cultura, para que atendam às necessidades sociais e individuais da pessoa;
- III. possibilidade de reelaboração – refere-se à percepção, assimilação e transformação da informação pelo próprio aluno;
- IV. Validade – abrir novas perspectivas, novas visões, novas possibilidades.

Marque a alternativa que apresenta a opção

CORRETA:

- a) I, II e III;
- b) II, III, e IV;
- c) I, III, e IV;
- d) I, II, III e IV;

30. Para Piaget, o desenvolvimento é o processo de equilíbrio constante, através da construção de estruturas variáveis, visando à adaptação do indivíduo ao mundo exterior, por meio da assimilação e da acomodação. Os principais períodos do desenvolvimento mental são:

- a) Sensorio-motor, pré-operacional, operações concretas e operações formais;
- b) Oral, anal, fálica, latência e genital;
- c) Reflexos, organização e inteligência sensorio-motora;
- d) Maturação, operações concretas e operações formais.

— CONHECIMENTOS GERAIS/ATUALIDADES —

31. A dificuldade em aceitar ou tolerar o outro é uma das principais questões na atividade que interferem decisivamente nas relações políticas internacionais. Nesse sentido, assinale a alternativa que apresenta fatos da realidade que demonstrem essa condição de intolerância nas relações internacionais.

- a) O ataque de palestinos contra ativistas israelenses na Faixa de Gaza.
- b) O ataque egípcio contra manifestantes políticos israelenses pela emancipação da Cisjordânia.
- c) O ataque israelense a um navio que transportava ajuda humanitária para a Faixa de Gaza, vitimando nove ativistas políticos.
- d) A reprovação do governo brasileiro em relação à política nuclear iraniana, o que levou o país a cortar relações comerciais com a nação do Oriente Médio.

32. A questão ambiental é sem dúvida um dos mais importantes temas debatidos nas relações internacionais no contexto atual, fruto de diversas conferências em âmbito mundial. Nesse sentido, a Amazônia desperta atenção especial, sobretudo pelo fato de:

- a) Ter um papel importantíssimo para o clima da Terra, já que essa região é considerada o “pulmão do mundo”.
- b) Possuir uma enorme biodiversidade, com milhares de espécies da flora e da fauna, além de uma riquíssima bacia hidrográfica.
- c) Ser a única floresta equatorial do planeta e bastante ameaçada pelo avanço do desmatamento.
- d) Ser um patrimônio da humanidade, já que foi declarada internacionalizada.

33. Exploração de camada pré-sal pode colocar o Brasil entre as 10 maiores reservas de petróleo do mundo. RIO - O presidente da Petrobrás, José Sergio Gabrielli, estima que o Brasil pode dar um salto no ranking dos países com as maiores reservas de óleo e gás no mundo caso se confirmem as estimativas preliminares sobre acumulações na camada de pré-sal no litoral brasileiro. De acordo com o executivo, o país, que atualmente ocupa o vigésimo quarto lugar entre as maiores reservas de óleo e gás no mundo, poderia passar para o oitavo ou nono lugar, posições hoje ocupadas por Venezuela e Nigéria, respectivamente. Em termos de incremento das reservas, o salto representaria um crescimento dos atuais 14,4 bilhões de barris de óleo equivalente para algo entre 70 bilhões e 107 bilhões de barris de óleo equivalente.

(disponível em <http://economia.uol.com.br/ultnot/valor/2007>).

Sobre a exploração do petróleo na camada pré-sal, assinale a alternativa correta

- a) O petróleo encontrado nesta área está a profundidades que superam os 7 mil metros, abaixo de uma extensa camada de sal.
- b) A exploração de petróleo na camada pré-sal irá beneficiar exclusivamente o estado do Rio de Janeiro, onde estão situadas as reservas de petróleo.
- c) Com a exploração de petróleo na camada pré-sal, o Brasil se tornará um dos maiores produtores mundiais dessa fonte de energia, o que garantirá o seu pleno desenvolvimento econômico.
- d) O Congresso Nacional já aprovou a nova lei de partilha dos Royalties do petróleo, com pleno apoio de estados como o Rio de Janeiro e Espírito Santo, que são os maiores produtores do país.

34. O mundo atravessa uma grande crise financeira, cuja origem está relacionada com o mercado imobiliário dos Estados Unidos. A crise irrompeu em agosto de 2007. Após a grande oferta de créditos para o setor imobiliário, assistiu-se nos EUA a uma onda de inadimplência, que assumiu efeitos em cadeia: primeiro, a crise atingiu as empresas imobiliárias; depois, bancos, além de outros tipos de financiamento. Não tardou para que a crise chegasse à economia real provocando quebra de bancos, fábricas, e promovendo demissões em massa.
NO Brasil, o governo implantou medidas importantes na tentativa de minimizar os efeitos dessa crise. Dentre essas medidas, podemos destacar:
- A privatização de grandes empresas estatais, como é o caso da Companhia Vale do Rio Doce.
 - A estatização do sistema bancário nacional.
 - A redução do imposto sobre produtos industrializados (IPI) para automóveis, materiais de construção e eletrodomésticos.
 - O drástico corte na oferta de créditos, visando conter o consumo e a inflação.
35. Sobre a questão energética no Brasil, assinale a única alternativa correta:
- Mais de 80% da energia elétrica produzida no Brasil é oriunda das usinas termelétricas, fato bastante preocupante, tendo em vista o excessivo lançamento de gases causadores do efeito estufa na atmosfera.
 - A produção dos biocombustíveis, como o etanol e o biodiesel são alternativas energéticas muito importantes para o Brasil, já que não possuem qualquer restrição ambiental.
 - Apesar de beneficiado pelas condições naturais, o aproveitamento de fontes alternativas renováveis como a energia solar e eólica ainda é bastante reduzido.
 - A forma mais viável para geração de energia elétrica no Brasil é através das usinas hidrelétricas, que não apresentam nenhuma restrição ambiental.
37. Antes de ser emancipado politicamente, o município de Boqueirão do Piauí era conhecido pelo nome de:
- Bananeiras
 - Boqueirão
 - Lagoinhas
 - Estrela
38. A respeito da infra-estrutura básica e condições sanitárias do município de Boqueirão do Piauí é correto afirmar:
- Os domicílios integrados à rede geral de abastecimento de água chegaram no ano de 2000 a 90% do total;
 - Todos os domicílios do município fazem parte da rede de energia elétrica local;
 - O município apresenta um dos mais modernos serviços de coleta de lixo do Estado
 - Apresenta uma taxa de mortalidade infantil de aproximadamente 19,05 do total de nascidos.

DISTRIBUIÇÃO DA TERRA POR GRUPO DE ÁREA E ESTABELECIMENTO

GRUPO DE ÁREA (ha)	ESTABELECIMENTOS		ÁREA (ha)	
	Nº ABSOLUTO	%	Nº ABSOLUTO	%
Menos de 10	383	84,2	654	7
De 10 a menos de 50	34	7,3	849	9
De 50 a menos de 100	12	2,6	790	8,4
De 100 a menos de 500	25	5,3	4.295	45,7
De 500 a mais	3	0,6	2.808	39,9
Sem declaração	-	-	-	-
TOTAL	467	100	9.396	100

FONTE IBGE, CENSO AGROPECUÁRIO- 1995-1996

CONHECIMENTO LOCAL

36. Aponte a localização de Boqueirão do Piauí na divisão do Estado em territórios para o desenvolvimento:
- Está localizado no aglomerado 3 da macrorregião Meio-Norte, o que implica dizer que integra o grupo dos municípios que, do ponto de vista econômico, apresentam vocação para a cultura do arroz e exploração do coco babaçu;
 - É parte do aglomerado 4 da macrorregião Meio-Norte, ao lado de municípios como Domingos Mourão, Lagoa do São Francisco e São João da Fronteira;
 - Faz parte do aglomerado 5 da macrorregião Meio-Norte, tendo como parceiro nesse aglomerado municípios como Campo Maior, Sigefredo Pacheco e Boa Hora;
 - Situa-se no aglomerado 10, da macrorregião do Semi-Árido, ao lado de município como Aroazes, Prata do Piauí e Santa Cruz dos Milagres.
39. Com base na tabela acima que mostra a distribuição da terra em Boqueirão do Piauí, aponte a afirmativa correta:
- Os estabelecimento com menos de 10 ha ocupam mais de 70% da área do municio de Boqueirão do Piauí;
 - Menos de 6% de estabelecimentos ocupa mais de 80% da área do município, configurando-se a concentração fundiária;
 - Em número de estabelecimentos e em área ocupada, a tabela revela um predomínio da pequena propriedade, menos de 10ha;
 - A área ocupada pelas propriedades com mais de 500 ha é superior a área ocupada com menos de 500 ha.
40. Fazem limite com o município de Boqueirão do Piauí:
- Cocal de Telha e Nossa Senhora de Nazaré
 - Morro Cabeça no Tempo e Jerumenha
 - Capitão de Campos e Barras
 - Boa Hora e Domingos Mourão