



ESTADO DO PIAUÍ
PREFEITURA MUNICIPAL DE GILBUÉS
CONCURSO PÚBLICO Nº. 01/2009

Concurso público para provimento de cargos de Prof. Geografia

DATA: 10/01/2010
HORÁRIO: 14h às 18h
DURAÇÃO: 4 horas
NÚMERO DE QUESTÕES: 40

Nº INSCRIÇÃO:

LEIA ATENTAMENTE AS INSTRUÇÕES ABAIXO.

- Para a realização desta prova, você está recebendo este **CADERNO DE QUESTÕES**. No momento adequado, lhe será entregue o seu **CARTÃO RESPOSTA PERSONALIZADO**.
- As questões estão assim distribuídas:

LÍNGUA PORTUGUESA	10
CONHECIMENTOS ESPECÍFICOS	05
CONHECIMENTOS GERAIS/ATUALIDADES	20
CONHECIMENTOS LOCAIS	05

- Caso o **CADERNO DE QUESTÕES** esteja incompleto, solicite outro ao fiscal, de imediato. Não serão aceitas reclamações posteriores.
- Nenhum candidato poderá sair da sala antes de decorridos 60 (sessenta) minutos do início da prova, ressalvados os casos de emergência médica.
- Só poderá ser utilizado como "borrão" o próprio **CADERNO DE QUESTÕES**.
- Não será permitida qualquer espécie de consulta, nem uso de aparelho(s) de cálculo.
- O porte de quaisquer aparelhos de comunicação e/ou de registro de dados, no recinto da prova, a qualquer momento, caracteriza **TENTATIVA DE FRAUDE**, procedendo-se à retirada imediata do candidato e a sua **ELIMINAÇÃO SUMÁRIA** do concurso.
- As respostas devem ser marcadas, obrigatoriamente, no **CARTÃO RESPOSTA**, pois a correção das provas será efetuada, considerando-se, exclusivamente, o conteúdo do cartão.
- Ao concluir a prova, o candidato terá que devolver o **CARTÃO RESPOSTA** devidamente **ASSINADO** e também o **CADERNO DE QUESTÕES**. A não devolução de qualquer um deles implicará na eliminação do candidato.

INSTRUÇÕES - PROVA OBJETIVA

- Verifique se os seus dados estão corretos no **CARTÃO DE RESPOSTA** óptico. Caso haja algum dado incorreto, escreva apenas no(s) campo(s) a ser(em) corrigido(s), conforme instruções no **CARTÃO DE RESPOSTAS**.
- Leia atentamente cada questão e assinale no **CARTÃO DE RESPOSTAS** óptico a alternativa que mais adequadamente a responder.
- A questão que tiver mais de uma resposta assinalada será considerada errada, mesmo que uma das assinalações esteja correta.
- O **CARTÃO DE RESPOSTA** óptico **NÃO** pode ser dobrado, amassado, rasurado, manchado ou conter qualquer registro fora dos locais destinados às respostas.
- A maneira correta de assinalar a alternativa no **CARTÃO DE RESPOSTAS** óptico é cobrindo, fortemente, com caneta esferográfica de tinta preta ou azul, fabricada em material transparente, o espaço a ela correspondente, conforme modelo a seguir:

Marque as respostas **assim**:

Leia com atenção o texto abaixo e responda às questões que seguem.

BABEL EM COPENHAGUE

01 A 15ª Reunião das Nações Unidas para
02 Mudanças Climáticas (COP15) tinha uma missão
03 difícil. Fazer com que representantes de 192 países
04 e sessenta comitivas de chefes de estado
05 chegassem a um acordo mundial para a redução
06 de gases de efeito estufa na atmosfera era um
07 desafio e tanto, mesmo na visão dos mais
08 otimistas. Ainda assim, foi surpreendente o que
09 se passou em Copenhague na sexta-feira.
10 Esperava-se que, depois de uma reunião de
11 emergência que começou na noite de quinta-feira
12 e só terminou no dia seguinte, as respeitáveis
13 autoridades conseguissem pelo menos manter as
14 aparências. No entanto, presidentes, primeiros-
15 ministros e príncipes foram embora da Dinamarca
16 de mãos abanando. Deixaram para seus
17 negociadores a tentativa de salvar algum
18 compromisso minimamente palatável, que se
19 traduziu em um documento político. As
20 preocupações legítimas com o fenômeno climático
21 transmutaram a reunião da ONU num espetáculo
22 pouco útil aos interesses do planeta, porém ao
23 gosto da indústria de ONGs e empresas que se
24 beneficiam da paranoia em torno do assunto.

25 Mas atropelos e desencontros da reunião de
26 Copenhague não significam que o mundo está
27 irremediavelmente fadado ao cataclismo. O mundo
28 não vai acabar desta vez. O que acabou foi a
29 COP15, uma das reuniões de um processo de
30 negociação que já se desenrola há dezessete
31 anos. Tudo o que não ficou decidido ali estará em
32 discussão novamente em 2010, na COP16, que
33 acontecerá em dezembro, no México. De qualquer
34 modo, foi um fim melancólico.

35 Para que a conferência fosse bem-sucedida,
36 seria necessário ter passado a limpo cinco itens
37 de sua agenda. Até o encerramento desta edição
38 de VEJA, na sexta-feira à noite, ainda havia muitas
39 dúvidas. O único acordo claro deu-se em torno do
40 que já se sabe à exaustão: é preciso limitar o
41 aumento da temperatura global, e esse limite é de
42 2 graus. Mas tudo o que precisa ser feito para que
43 isso aconteça ficou para depois.

(Extraído da Revista **Veja**, edição 2144, ano 42, nº 51,
23/12/2009)

01. Atente para as seguintes afirmações:

I. Tendo em vista o fracasso da 15ª Reunião das Nações Unidas para Mudanças Climáticas, ocorrida em Copenhague, a segurança do Planeta passou a correr grave risco, por causa das contínuas emissões de gases de efeito estufa.

II. Houve apenas um ponto de concordância entre os países que participaram da COP15, em Copenhague.

III. Por causa dos atropelos e desencontros da Reunião das Nações Unidas para Mudanças Climáticas, realizada em dezembro de 2009, tornou-se irremediável o problema do efeito estufa provocado pela emissão de gases na atmosfera.

Em relação ao texto está CORRETO o que se afirma em:

- a) I, II e III
- b) I e III
- c) II, apenas
- d) III, apenas

02. O título do texto sugere que, na reunião da ONU em Copenhague, houve:

- a) Diversidade de línguas
- b) Excesso de palavras
- c) Falta de compromisso
- d) Desentendimentos

03. O termo CATACLISMO, linha 27, está empregado no sentido conotativo, significando:

- a) Tremor de terra
- b) Grande desastre
- c) Convulsão social
- d) Dilúvio

04. Coloque nos parênteses V ou F, conforme a assertiva seja VERDADEIRA ou FALSA. Em seguida, aponte a alternativa com a sequência CORRETA:

- () A forma verbal CHEGASSEM, linha 05, se encontra no Imperfeito do Subjuntivo.
 - () O vocábulo O, linha 08, é um pronome demonstrativo.
 - () A expressão coesiva NO ENTANTO, linha 14, introduz uma relação de condição.
 - () Os vocábulos POUCO e PORÉM, linha 22, são, respectivamente, adjetivo e conjunção.
 - () A função gramatical do vocábulo QUE, linha 26, é de conjunção integrante.
- a) V - F - F - V - V
 - b) V - V - F - F - V
 - c) F - F - V - V - F
 - d) F - V - F - V - F

05. A substituição do termo destacado em NO ENTANTO, PRESIDENTES, PRIMEIROS-MINISTROS E PRÍNCIPES FORAM EMBORA DA DINAMARCA DE MÃOS ABANANDO, linhas 14 a 16, altera o sentido em:

- a) Portanto
- b) Contudo
- c) Entretanto
- d) Todavia

06. Acerca do período MAS TUDO O QUE PRECISA SER FEITO PARA QUE ISSO ACONTEÇA FICOU PARA DEPOIS, linhas 42 e 43, atente para as afirmações :

- I. Existem duas orações.
- II. Existe uma oração subordinada adverbial final.
- III. O sujeito da oração principal é TUDO.

Em relação ao texto está CORRETO o que se afirma em:

- a) I e II
- b) II somente
- c) I e III
- d) II e III

07. O prefixo da palavra IRREMEDIAMENTE, linha 27, só não tem significado idêntico na palavra:

- a) Irregular
- b) Imóvel
- c) Interno
- d) Impróprio

08. Não tem a mesma regência de ÚTIL, linha 22, apenas:

- a) Desatento
- b) Resistente
- c) Capaz
- d) Análogo

09. A palavra PARANOIA, linha 24, a partir do Acordo Ortográfico da Língua Portuguesa, deixou de ser acentuada, pela mesma razão que a palavra:

- a) Voo
- b) Veem
- c) Xiita
- d) Jiboia

10. Coloque nos parênteses V ou F, conforme a assertiva seja VERDADEIRA ou FALSA. Em seguida, aponte a alternativa com a sequência CORRETA:

- () O ofício, diferentemente da carta, só pode ser expedido por órgão público.
- () O memorando é uma forma de escrita utilizada para a comunicação externa dos órgãos públicos.
- () O requerimento é um documento em que se solicita algo a que se tem direito por lei ou que assim se supõe.
- () O atestado é um documento oficial com que se certifica, afirma, assegura, demonstra algo que interessa a outrem e pode ser firmado por qualquer pessoa.

- a) V- F - V - F
- b) V- V- F - F
- c) F - V - F - V
- d) F - F - V - V

11. O percurso histórico da Geografia como área do conhecimento científico é marcado por diversas concepções diferenciadas, sendo que tais diferenças refletem, antes de tudo, o contexto histórico em que o conhecimento foi produzido e sustentado em diferentes pressupostos teórico-metodológicos. Assim sendo, analise o fragmento de texto abaixo:

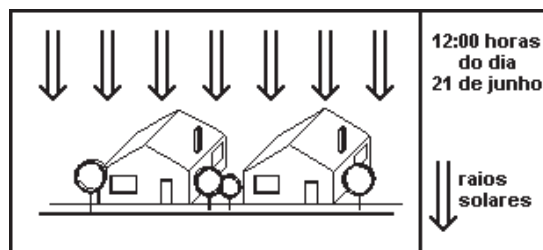
“... a sociedade é um organismo que mantém relações duráveis com o solo, manifestas, por exemplo, nas necessidades de moradia e alimentação. O homem precisaria utilizar os recursos da natureza, para conquistar sua liberdade... O progresso significaria um maior uso dos recursos do meio, logo, uma relação mais íntima com a natureza”

(MORAES, Antonio Carlos Robert. Geografia, pequena história crítica. São Paulo: Hucitec, 1983.)

O fragmento de texto acima evidencia uma forma de pensar a Geografia como conhecimento científico, que pode ser corretamente evidenciada como:

- a) Determinismo, que teve como precursor Friedrich Ratzel
- b) Possibilismo, fundamentado nas idéias de Paul Vidal de La Blache
- c) Geografia Regional expressa a partir do pensamento do naturalista Alexander Humboldt
- d) Geografia Teorética, que teve como um dos principais precursores Antonio Christofolletti

12. A relação Sol-Terra faz com que em qualquer lugar do planeta existam diferenças no tempo atmosférico. Tais diferenças podem ser justificadas pelos movimentos de rotação e translação do planeta. Nesse sentido, observando a figura que segue, pode-se afirmar **CORRETAMENTE** que:



- a) os raios solares estão incidindo perpendicularmente ao Equador, evidenciando o equinócio de primavera para o hemisfério sul;
- b) é o início do verão para o hemisfério sul, tendo em vista que os raios solares estão incidindo perpendicularmente ao trópico de capricórnio;

- c) os raios solares estão incidindo perpendicularmente ao trópico de câncer, evidenciando o início do inverno para o hemisfério sul;
- d) ao meio dia, o sol incidirá no zênite de qualquer cidade situada ao longo do trópico de capricórnio.

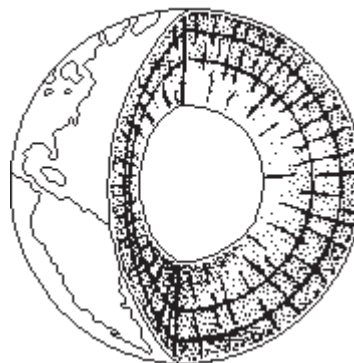
13. “Não existe uma única maneira correta de representar o mundo, já que o planeta, tendo a forma de um globo, não apresenta perspectiva de quem o construiu, sendo, portanto, uma visão particular do mundo.” (Eustáquio de Sene & João C. Moreira. “Geografia geral e do Brasil: espaço geográfico e globalização”, 1998.)



Partindo do fragmento de texto e da imagem acima, pode-se afirmar que:

- a) a representação do mapa acima está equivocada, tendo em vista que o sul está indicado na parte superior do mapa;
 - b) não há equivoco na representação, tendo em vista que o planeta terra é esférico e as indicações de norte “para cima” e de sul “para baixo” são apenas convenções;
 - c) da forma como está apresentado o mapa, pode-se deduzir que a Argentina localiza-se ao norte do Brasil;
 - d) o sistema de coordenadas adotado está invertido, tendo como objetivo dar maior destaque às áreas situadas ao longo do meridiano de Greenwich.
14. Para cada tipo de representação cartográfica existe uma escala numérica apropriada. Nesse sentido, para representar de forma mais adequada, em um mapa, a cidade de Parnarama, de tal forma que se possa visualizar com mais detalhes os objetos espaciais como ruas, avenidas e praças, utilizar a escala:
- a) 1: 1.000.000
 - b) 1:500.000
 - c) 1:250.000
 - d) 1:10.000
15. A estrutura interna do planeta Terra evidencia a existência de camadas que se diferenciam por diversos aspectos como a composição química, a densidade dos materiais, temperatura etc. Nesse sentido, considerando a imagem abaixo, assinale a alternativa **CORRETA**:

CAMADAS DA TERRA



- a) As camadas internas da Terra (litosfera, manto e núcleo), devido à composição das mesmas, aumentam de densidade da superfície para o centro do planeta.
 - b) A litosfera, também denominada de crosta terrestre, pode ser dividida em duas partes: a crosta continental, composta principalmente por silício e alumínio e a crosta oceânica, composta por silício e magnésio.
 - c) A litosfera, camada mais externa, composta principalmente por silício e alumínio, apresenta-se sólida, portanto, tem maior densidade.
 - d) O manto é composto basicamente de níquel e ferro e encontra-se em estado sólido.
16. “(...) a preocupação muito difundida quanto à configuração de uma crise ambiental expressa seja no esgotamento dos recursos naturais, na perda da diversidade biológica, nas mudanças atmosféricas, na crescente produção de rejeitos comprometedores das condições ambientais, seja, ainda, na evidência de que os sistemas econômico-sociais vigentes vêm gerando formas inegáveis de exclusão, em diferentes âmbitos espaciais, justifica a adesão à noção de DESENVOLVIMENTO SUSTENTÁVEL, que parece conter a capacidade de superar a ameaça à sobrevivência humana na Terra”
- (AJARA, C. “As difíceis vias para o desenvolvimento sustentável: gestão descentralizada do território e zoneamento ecológicoeconômico”. ENCE/Rio de Janeiro. 2003. p. 6).
- Intensamente difundido a partir do final da década de 1980, o conceito de desenvolvimento sustentável significa:
- a) A preservação incondicional dos recursos naturais, evitando a exploração dos mesmos.
 - b) O congelamento do crescimento econômico dos países como forma de reduzir os impactos ambientais.
 - c) Um modelo de desenvolvimento socialmente justo e capaz de atender às necessidades das gerações presentes sem comprometer as possibilidades das gerações futuras de também atenderem às suas necessidades.

d) Um modelo de desenvolvimento que privilegia a modernização tecnológica como vetor principal da sustentabilidade.

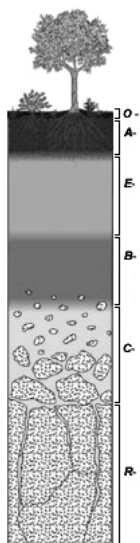
17. Vários fatores influenciam a distribuição da temperatura sobre a superfície da Terra. Entre eles pode-se citar a quantidade de insolação recebida em um lugar; a natureza da superfície que recebe a insolação; o relevo; a distância a partir dos corpos hídricos e as correntes oceânicas.

Considerando a atuação dos fatores climáticos mencionados, assinale a alternativa **CORRETA**:

- a) A latitude é importante fator climático já que determina uma redução da temperatura dos polos para o Equador.
- b) A disposição das formas de relevo pode facilitar ou dificultar a penetração das massas de ar em determinadas regiões, podendo ocasionar climas mais úmidos ou mais secos.
- c) O maior distanciamento em relação às grandes massas líquidas da Terra (oceanos e mares) provoca a redução da amplitude térmica.
- d) As correntes marítimas frias são responsáveis pela ocorrência de climas mais frios e úmidos ao longo dos litorais.

18. O Solo é um corpo de material inconsolidado, que recobre a superfície emersa terrestre entre a litosfera e a atmosfera. Os solos são constituídos de proporções e tipos variáveis de minerais, gases água e matéria orgânica.

Partindo da definição acima e da imagem abaixo, assinale a alternativa **INCORRETA**:



- a) Os processos intempéricos são fundamentais para a formação dos solos.
- b) Nos horizontes mais superficiais do solo, o teor de matéria orgânica é bastante elevado.

- c) Em áreas de climas tropicais úmidos, os solos são geralmente bastante intemperizados.
- d) O horizonte R do solo é caracterizado pela rocha-matriz bastante intemperizada pela erosão natural.

19. Uma das principais características do relevo brasileiro é a sua grande diversidade de formas. A figura que segue demonstra uma das formas de relevo mais comuns no território brasileiro, com grande ocorrência, inclusive, no Estado do Maranhão. Trata-se de:



Fonte: MOREIRA & SENE, 2004

- a) um planalto cristalino
- b) uma chapada
- c) uma falésia
- d) um inselbergue

20. “A água distribui-se na atmosfera e na parte superficial da crosta até uma profundidade de aproximadamente 10 km abaixo da interface atmosfera/crosta, constituindo a hidrosfera, que consiste em uma série de reservatórios como os oceanos, geleiras, rios, lagos, vapor de água atmosférica, água subterrânea e água retida nos seres vivos”.

(TEIXEIRA, Wilson et al. (Orgs.). “Decifrando a terra”. São Paulo: Oficina de Textos, 2000. p.114.)

Em relação à distribuição da água na superfície terrestre e sua utilização, assinale a alternativa **CORRETA**:

- a) A água se distribui de forma desigual na superfície terrestre, sendo que os depósitos subterrâneos constituem-se, nas maiores reservas desse recurso, com cerca de 55% de todo o estoque mundial.
- b) O Brasil é um país privilegiado quanto a disponibilidade de água doce, possuindo uma das mais vastas redes de drenagem do planeta, fato que garante o pleno abastecimento das áreas urbanas e rurais.
- c) A escassez de água em diversos países é condicionada por fenômenos naturais e intensificada pelo mau uso do solo.
- d) A drástica diminuição da cobertura vegetal nas áreas urbanas brasileiras aumenta o processo de infiltração de água no solo e reduz a vazão dos rios.

21. As análises das populações humanas utilizam-se de indicadores numéricos interpretados à luz de teorias demográficas às vezes divergentes. Interesses político-econômicos também orientam estas análises e direcionam as ações governamentais relativas ao crescimento da população.

Em relação às teorias demográficas, assinale a alternativa **VERDADEIRA**.

- a) A teoria neomalthusiana, elaborada após a Segunda Guerra Mundial (1939-1945), defende a hipótese de que o ritmo de crescimento demográfico acelerado, além de ser um fator de entrave ao desenvolvimento econômico, provoca o esgotamento dos recursos naturais.
- b) A teoria neomalthusiana, criada após a Segunda Guerra Mundial, fundamenta-se no princípio de que as reformas econômico-sociais são necessárias para promover o equilíbrio entre a população e os recursos naturais.
- c) A teoria demográfica de Malthus, lançada ainda no final do século XVIII, defende, dentre outros princípios, a necessidade de se promover um controle do crescimento da população mundial, especialmente nos países subdesenvolvidos, a partir da difusão dos meios contraceptivos.
- d) A teoria marxista destaca a necessidade de políticas públicas voltadas para o controle do crescimento demográfico mundial a partir da difusão de meios anticoncepcionais e esterilização feminina.

22. Leia com atenção o trecho da música a triste partida, de Luiz Gonzaga.

“Apela pra Março
Que é o mês preferido
Do santo querido
Senhor São José
Meu Deus, meu Deus
Mas nada de chuva
Tá tudo sem jeito
Lhe foge do peito
O resto da fé
Ai, ai, ai, ai

Agora pensando
Ele segue outra tria
Chamando a fãmia
Começa a dizer
Meu Deus, meu Deus
Eu vendo meu burro
Meu jegue e o cavalo
Nós vamos a São Paulo
Viver ou morrer”

A canção de Luiz Gonzaga retrata um dos mais importantes movimentos migratórios internos do território brasileiro, especialmente após a década de 1950. Trata-se:

- a) Da transumância, onde os trabalhadores migravam em busca de empregos temporários em São Paulo.
- b) Do êxodo rural, motivado pelas péssimas condições de vida no campo e pela expectativa de empregos urbanos.
- c) Das migrações pendulares, comuns nos grandes centros urbanos.
- d) Das migrações sazonais dos corumbas, em busca de emprego no corte de cana-de-açúcar.

23. Leia com atenção o texto a seguir:

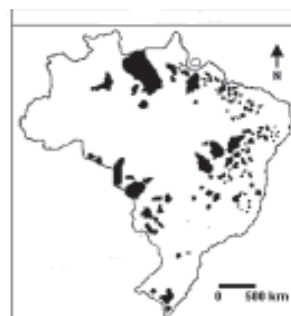
“As cidades cresceram muito, concentrando milhões de pessoas que se encontram em busca de sobrevivência. Hoje, no mundo, a população urbana supera a população rural. As megacidades alcançam cifras impensáveis. A população de Tóquio em 2007 era superior a trinta e cinco milhões de habitantes. São Paulo e Rio de Janeiro estão entre as maiores cidades do mundo”.

(SILVA, José Borzacchiello. Megacidades. “O Povo”. 17/08/2008, p. 5.)

Em relação ao processo de urbanização mundial e brasileiro, assinale a alternativa correta:

- a) Nos países desenvolvidos, o processo de urbanização é considerado como recente, sendo resultado do processo de industrialização e da modernização das atividades agrárias.
- b) Nos países subdesenvolvidos, o fraco desempenho industrial impediu que a urbanização ocorresse de forma mais intensa.
- c) Uma característica marcante no processo de urbanização brasileiro é o crescimento das atividades primárias e secundárias, especialmente aquelas ligadas à economia informal.
- d) Nos países subdesenvolvidos, as migrações rural-urbanas, intensificadas após a década de 1950, têm sido responsáveis pelo grande crescimento da população das cidades, fenômeno que tem contribuído para o aumento do desemprego urbano e para a precariedade das condições de vida das pessoas.

24. O mapa que segue demonstra a distribuição espacial:



Fonte: UNB, 2005

- a) das terras indígenas
- b) das áreas mineradoras
- c) das áreas produtoras de soja
- d) das territórios quilombolas

25. Leia o texto abaixo:

“As indústrias estão distribuídas de forma desigual no planeta, pois tendem a se concentrar nos lugares onde há fatores favoráveis à sua localização. Como esses fatores são definidos historicamente, variam com o passar do tempo, dependendo do tipo de indústria.”

SENE, E. de; MOREIRA, J. C. Geografia Geral e do Brasil: Espaço Geográfico e Globalização. São Paulo: Scipione, 1998. p. 103.

Considerando a importância dos fatores locais para as atividades industriais, assinale a alternativa **CORRETA**:

- a) A indústria de base é considerada pouco exigente quanto a matérias-primas e fontes de energia, por isso tende a se dispersar mais facilmente pelo espaço geográfico.
- b) As indústrias de bens de consumo não-duráveis, por sua grande demanda de capital e tecnologia, tendem a se localizar apenas nas grandes regiões metropolitanas.
- c) As indústrias de alta tecnologia, como a microeletrônica, a robótica, dentre outras, têm como principal fator locacional, a disponibilidade de mão-de-obra altamente qualificada.
- d) A oferta de incentivos fiscais não tem importância quanto à localização das atividades industriais.

26. Nos países subdesenvolvidos, o rápido processo de urbanização verificado no contexto pós-Segunda Guerra Mundial provocou um fenômeno conhecido como hipertrofia do setor terciário da economia, significando que:

- a) ocorre, no setor terciário, um verdadeiro inchaço, caracterizado por uma elevada absorção de mão-de-obra barata e de baixa qualificação, sobretudo nas atividades informais;
- b) o setor terciário é caracterizado pelo predomínio de absorção da população economicamente ativa, sobretudo nas atividades de maior qualificação profissional;
- c) pelo grande dinamismo dos setores primário e secundário, a população economicamente ativa tende a se concentrar no setor terciário da economia;
- d) pelo baixo dinamismo agrícola e industrial, o setor terciário da economia é responsável pelo comando das atividades econômicas, sendo caracterizado por grandes investimentos de capitais e tecnologias.

27. Os sistemas de transportes são de extrema importância no processo de desenvolvimento econômico de um país, pois permite o acesso às fontes de matérias-primas, a distribuição dos produtos agrícolas e industriais, bem como a integração regional. Nesse sentido, considerando a importância dos transportes, assinale a alternativa **CORRETA**:

- a) Nos países desenvolvidos, os sistemas eficientes de redes de transportes facilitam os fluxos, interagindo e integrando áreas diversas, em contextos intra e interurbanos.
- b) No Brasil, a prioridade dada ao sistema de transporte ferroviário possibilitou às cidades a estruturação de uma rede urbana eficaz, favorecendo a conectividade e as interações.
- c) A rede de transporte ferroviário, devido à sua grande flexibilidade espacial, favorece o fluxo de mercadorias, promovendo uma integração de toda a rede urbana.
- d) O sistema de transporte rodoviário, por seu baixo custo operacional, é o mais indicado para o transporte de mercadorias a longas distâncias, como é o caso do Brasil.

28. Bioma é conceituado no mapa como um conjunto de vida (vegetal e animal) constituído pelo agrupamento de tipos de vegetação contíguos e identificáveis em escala regional, com condições geoclimáticas similares e história compartilhada de mudanças, o que resulta em uma diversidade biológica própria. (IBGE)



Mapa 1: Biomas brasileiros

Considerando as características dos grandes biomas brasileiros, assinale a alternativa **CORRETA**:

- a) O bioma Caatinga abrange o sertão nordestino e é caracterizado pela baixa diversidade de espécies vegetais, com domínio de plantas xerófitas, solos profundos e drenagem intermitente.
- b) O bioma Cerrado, que tem como área-núcleo, a região Centro-Oeste, estendendo-se também por trechos das regiões Sudeste, Norte e Nordeste. Caracteriza-se pela presença de pequenas árvores e arbustos geralmente esparsos e tortuosos com abundante vegetação rasteira, além de apresentar solos profundos e ácidos e uma drenagem perene.

- c) O bioma Pantanal caracteriza-se pela ocorrência de uma densa floresta latifoliada em que predominam espécies perenifólias.
- d) O bioma Mata Atlântica tem como características fundamentais a presença de uma densa floresta tropical aciculifoliada, em área de clima litorâneo, e um relevo marcado pelo domínio dos chapadões.
29. A região Nordeste do Brasil apresenta algumas áreas que podem ser consideradas como verdadeiras “ilhas de modernidade” agrícola, empregando técnicas modernas e sofisticados equipamentos e produzindo gêneros agrícolas para exportação. Um desses núcleos é:
- a) Do Golfão Maranhense, com uma grande produção de grãos, principalmente de soja, voltadas para o mercado externo.
- b) Da depressão cearense, com uma moderna fruticultura irrigada que utiliza as águas do rio Jaguaribe.
- c) Do sul da Bahia, onde a produção de cana-de-açúcar em moldes modernos praticamente não utiliza mão-obra braçal.
- d) Do médio Vale do rio São Francisco, que produz frutas com um sistema de irrigação utilizando águas da barragem de Sobradinho, destinadas em sua maior parte à exportação.
30. Em relação às características da economia brasileira no contexto atual, assinale a alternativa **VERDADEIRA**:
- a) A economia brasileira, por não ser dependente do capital externo, não sofreu os efeitos da crise econômica global da atualidade.
- b) Os grandes investimentos do governo federal em incentivos à pesquisa científica garantem o Brasil na vanguarda das inovações científico-tecnológicas.
- c) A economia brasileira ainda possui dependência externa de insumos produtivos, de capitais e de tecnologia moderna.
- d) A grande competitividade da economia brasileira no setor agroexportador possibilita a entrada irrestrita dos produtos agrícolas brasileiros principalmente nos Estados Unidos e na União Europeia.
- **CONHECIMENTOS GERAIS/ATUALIDADES** —
31. O presidente de Honduras, Manuel Zelaya, que foi deposto por um golpe militar em 28 de junho, voltou ao país em 21 de setembro, e se abrigou na embaixada brasileira sob a alegação de estar sofrendo perseguição política. Escolha entre as alternativas abaixo aquela que explica o início da crise e a razão do golpe militar ocorrido no país:
- a) O então presidente Manuel Zelaya pretendia fazer uma consulta popular para tentar mudar uma lei que o impedia de concorrer a um segundo mandato na eleição de novembro. Sua intenção, com a mudança da Constituição, era concorrer a mais um mandato de Presidente, o que a atual Constituição do país não permite.
- b) O então presidente Manuel Zelaya estava cada vez mais se aproximando ideologicamente de Hugo Chavez e também tinha a intenção de construir um socialismo bolivariano em Honduras.
- c) Honduras passa por uma profunda crise econômica decorrente da crise iniciada em setembro de 2008 nos Estados Unidos. O índice de desemprego aumentou significativamente no país e a pressão sobre o governo levou a um clima de instabilidade política.
- d) Honduras é um país dividido por etnias indígenas que disputam territórios há séculos desde a chegada dos colonizadores espanhóis na América Central. A proximidade de Manuel Zelaya com uma destas etnias vinha provocando profundas dissidências dentro do seu governo.
32. Barack Obama foi eleito em novembro de 2008 o primeiro presidente negro dos Estados Unidos. O fato político foi considerado histórico por conta do passado de racismo existente no país. Entre as alternativas abaixo, escolha aquela que representa a principal transformação ocorrida no século XX em relação à questão racial na sociedade americana.
- a) A Ku Klux Klan, grupo que pregava a negação da inclusão de negros libertos à sociedade americana, foi extinta no início da década de 1940, fato que abriu espaço para a criação de leis contra a segregação racial.
- b) Os partidos Republicano e Democrata fizeram um pacto no ano de 1955 para criar a lei anti-discriminação no senado americano.
- c) Martin Luther King, pastor protestante e ativista político estadunidense, foi eleito senador pelo Estado de Atlanta e ajudou a criar uma severa legislação anti-racismo.
- d) Na década de 1960 foi aprovada uma lei de direitos civis que garantiu a igualdade racial e vale até hoje nos Estados Unidos. A lei proíbe a discriminação em lugares públicos e autorizava o governo a processar qualquer estado-membro da nação que promovesse a segregação racial.
33. Recentemente, o Presidente Luís Inácio Lula da Silva recebeu o Presidente iraniano Mahmoud Ahmadinejad no Palácio do Itamaraty, em Brasília, para a assinatura de acordos comerciais e diplomáticos com o Brasil. A visita provocou uma série de reações da comunidade internacional,

principalmente dos Estado Unidos, que classificou esta aproximação como uma “má idéia”. Marque a alternativa que corresponde à principal crítica que a comunidade internacional faz ao comportamento do Irã no contexto atual.

- a) O Irã é um país que viola os direitos humanos e não reconhece a igualdade de direitos para as mulheres.
- b) O Irã não reconhece a autonomia das minorias xiitas localizadas ao sul do país e age com violência para solucionar este impasse político
- c) O Irã vem desenvolvendo um projeto de enriquecimento de urânio sem o consentimento da comunidade internacional.
- d) O Irã não concorda com a redução da emissão de gases poluentes que produzem o efeito estufa.
34. 1.A Petrobrás descobriu recentemente na camada do pré-sal uma quantidade significativa de petróleo que pode vir a dar ao Brasil, em um futuro próximo, a condição de exportador desta fonte de energia. A região onde se localizam as principais reservas encontra-se:
- a) em uma faixa que se estende ao longo de 800 quilômetros entre os Estados do Espírito Santo e Santa Catarina.
- b) em uma faixa que se estende ao longo de 800 quilômetros entre os Estados do Rio Grande do Norte e Espírito Santo.
- c) em uma faixa que se estende ao longo de 800 quilômetros entre os Estados do Pará e Rio Grande do Norte.
- d) em uma faixa que se estende ao longo de 800 quilômetros entre os Estados do Rio Grande do Norte e Rio Grande do Sul.
35. O Plano Real é um plano brasileiro criado pelo ex-ministro da fazenda Fernando Henrique Cardoso no governo de Itamar Franco, em 1994, que teve como medida principal a troca da moeda, criando o real, que passaria a ser adotado como moeda vigente no país. O objetivo principal do Plano foi:
- a) provocar um aumento de consumo
- b) reduzir as taxas de juros do país
- c) controlar a escalada inflacionária
- d) fortalecer o setor industrial do país
- a) 10.665 habitantes
- b) 10.457 habitantes
- c) 10.681 habitantes
- d) 10.245 habitantes
38. O Produto Interno Bruto (PIB) representa a soma de todos os bens e serviços finais produzidos numa determinada região, durante um período determinado. O Produto Interno Bruto per capita, é calculado com a divisão do valor total do PIB de uma região pela sua população. O PIB per capita de Gilbués, em 2007 de acordo com o IBGE, foi de:
- a) R\$ 3.953
- b) R\$ 3.362
- c) R\$ 3.055
- d) R\$ 3.853
39. A área que compreende o município de Gilbués, (IBGE), encontra-se localizada na Mesorregião Sudoeste Piauiense e Microrregião de:
- a) Alto Médio do Gurguéia.
- b) Baixo Médio do Gurguéia
- c) Alto Médio de Gilbués
- d) Baixo Médio de Gilbués
40. Gilbués tem por limites ao norte os municípios de Baixa Grande do Ribeiro, Bom Jesus e Santa Filomena, e ao sul os municípios de (CEPRO, 2008):
- a) Barreiras do Piauí e São Gonçalo do Gurguéia
- b) Monte Alegre do Piauí e Riacho Frio
- c) Barreiras do Piauí, Santa Filomena e o Estado do Maranhão.
- d) Estado do Maranhão

CONHECIMENTO LOCAL

36. Segundo IBGE, a comarca de Gilbués foi criada pelo Decreto estadual nº 247, de 1º de março de:
- a) 1960
- b) 1945
- c) 1950
- d) 1940
37. Segundo dados do IBGE, o município de Gilbués possui área da unidade territorial de 3.495 Km², e a estimativa da população para 2009,foi de:

